

Математика

(подготовительная группа)

Задание 1:

- В какое время года вы пойдёте в школу?
- А сколько вам будет лет?
- А какое время года было до этого?
- Какое будет следующее?

Задание 2:

- назови число, которое находится после 6? (7)
- назови число, которое стоит перед числом 3 (2)
- назови число, которое больше на 1 числа 5? (6)
- назови число, которое меньше на 1 числа 8? (7)
- назови число, которое находится слева от числа 4? (3)
- назови число, которое находится справа от числа 1? (2)

Задание 3: шуточные задачи:

«Три пушистых кошечки

Улеглись в лукошечке

Тут одна к ним прибежала

Сколько кошек вместе стало?» (4)

«Четыре гусёнка и двое утят

В озере плавают, громко кричат

А ну, посчитай поскорей –

Сколько всего в воде малышей?» (6)

- На столе лежало 4 яблока и 1 груша. Сколько овощей лежало на столе?


- У берёзы 5 веток слева и 5 веток справа, на каждой по 6 шишек. Сколько всего шишек на берёзе.

Задание 5: графический диктант на листе в клетку от нарисованной точки:


2 вверх, 2 вправо, 7 вниз, 2 вправо, 2 вверх, 3 вправо, 2 вниз, 2 вправо, 2 вверх, 3 вправо, 2 вниз, 2 вправо, 1 вниз, 3 влево, 2 вверх, 1 влево, 2 вниз, 4 влево, 2 вверх, 1 влево, 2 вниз, 4 влево, 6 вверх, 1 влево. (змея)

Нарисуй на часах минутную и часовую стрелки так, чтобы они показывали


4 часа




7 часов




10 часов



12 часов



6 часов



Впиши в пустые клетки любые числа, чтобы запись получилась правильной.

0	<	3
---	---	---

9	>	
---	---	--

1	<	
---	---	--

8	>	
---	---	--

2	<	
---	---	--

7	>	
---	---	--

3	<	
---	---	--

0	=	
---	---	--

4	<	
---	---	--

5	=	
---	---	--

Расставь в пустых кружочках нужные знаки.

9	○	6
---	---	---

5	○	4
---	---	---

7	○	7
---	---	---

10	○	7
----	---	---

10	○	8
----	---	---

6	○	6
---	---	---

1	○	6
---	---	---

2	○	4
---	---	---

Держайте, проводите время с пользой!

Педагоги 2 логопедической группы